

Compte-rendu d'excursion – La vallée du wadi Abadilah
Région de Masafi – Montagnes du Shumayliyah près du village de Tayyibah

5^e - L'évolution des paysages

Carnet de bord à compléter avec soin durant l'excursion

A. Le trajet

» Compléter la carte géographique de la région en indiquant à l'aide de couleurs et de légendes, la situation du lieu de l'excursion, la position des différents types de paysages, les reliefs et les activités humaines. La carte figure à la dernière page du fascicule.

Fournir une courte description

- Les différents types de paysages rencontrés d'Ouest en Est sont au nombre de cinq :

1 -

.....

.....

2 -

.....

.....

3 -

.....

.....

4 -

.....

.....

5 -

.....

.....

.....

.....

.....

.....

.....

.....

.....

.....

.....

.....

.....

.....

B. Arrêt n° 1 - Vue panoramique de la vallée du wadi Abadilah

1. Schéma légendé et orienté

Réaliser un schéma en utilisant cette page au format paysage

- Coordonnées et altitude du point obtenues à l'aide d'un GPS
-

- Les formes d'altération observées sur la roche sont :

.....

.....

.....

.....

.....

.....

- Partie de la problématique à laquelle cette observation répond en partie :

.....

.....

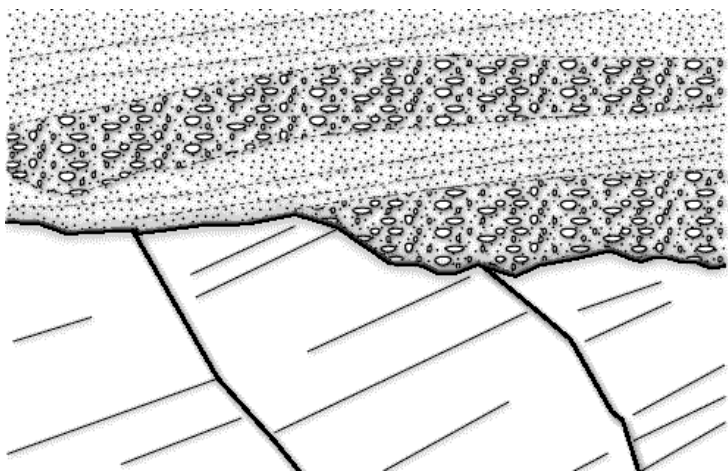
.....

.....

C. Arrêt n°2 - Vue aérienne rapprochée de la vallée (si l'arrêt a lieu)

Compléter le schéma en le légendant.

- Titre :



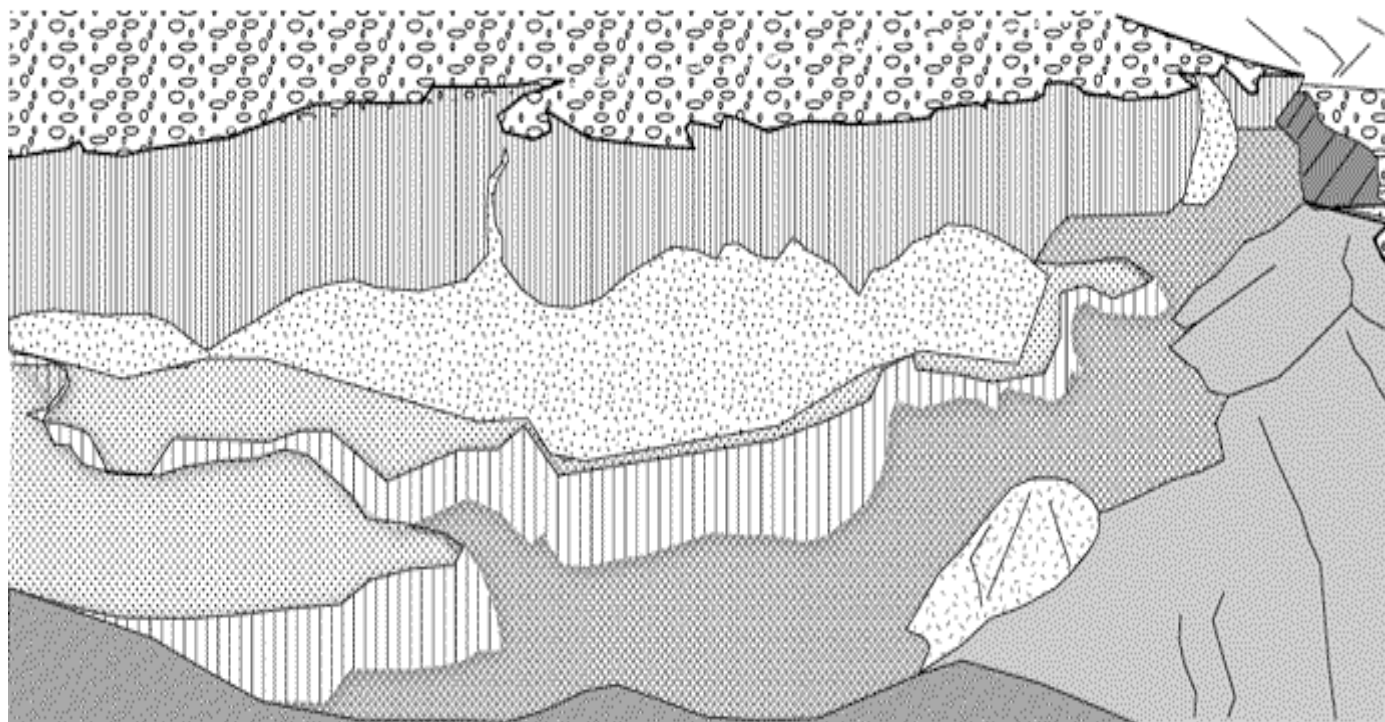
D. Arrêt n°3 - Etude des sédiments déposés dans la vallée

1. Schéma de la vue générale du haut de la terrasse

Pour compléter le schéma
 - donner un titre et orienter
 - écrire les légendes
 - indiquer par 5 numéros les éléments du paysage permettant de répondre aux différentes parties de la problématique.

- Titre

- Coordonnées et altitude du point obtenues à l'aide d'un GPS




Légendes des numéros (les numéros correspondent aux arrêts que nous allons effectuer)

1		3	
2		4	
5			

2. Mesure de la hauteur de la terrasse

- Schématisation du principe de mesure avec présentation des calculs.




- Résultat obtenu :
- Résultat obtenu au moyen des mesures GPS. Comparer avec la mesure effectuée.

.....

.....

3. Observation des sédiments qui forment la terrasse fluviale

- Schéma légendé de la coupe de la terrasse fluviale



4. Observation des dépôts récents dans le lit du wadi

- Description de 3 types de dépôts observés et interprétation en fonction de leur situation dans le lit du wadi. Si possible prendre une photo de chaque type de dépôt.

Les descriptions

Trois paysages schématisés ou petite photo

1

.....

.....

.....

.....

.....

.....


.....

.....

.....

.....

.....



2

.....

.....

.....

.....

.....

.....


.....

.....

.....

.....

.....



3

.....

.....

.....

.....

.....

.....


.....

.....

.....

.....

.....




5. Observation d'une tranche verticale de dépôts consolidés

- Schéma légendé d'une tranche de _____ cm de hauteur.

Ne pas oublier de prendre une photo

Échelle :



CARTE DU NORD DES EMIRATS ARABES UNIS ET DE MUSSADAM (OMAN)

